


E

PERCEPCIJA PROMETNE SITUACIJE




1. Vozite crni automobil i namjeravate skrenuti udesno. Kako ćete postupiti ?



1. **pozorno pratiti biciklistu**
2. **ubrzati i skrenuti prije bicikliste**
3. **propustiti biciklistu i potom skrenuti**


2. Na što morate biti pripravn u ovoj situaciji?



1. **Ubrzati vozilo i nastaviti vožnju**
2. **Na smanjenu pozornost pješaka**
3. **Na iznenadno kočenje**
4. **Na prelazak pješaka preko pješačkog prijelaza**

F

VOZILO U FUNKCIJI SIGURNOSTI PROMETA



1. Ako Vam se na instrument ploči upali crvena kontrolna žaruljica, kao na slici, što to znači?



1. **ABS sustav je u funkciji**
2. **ABS sustav je izvan funkcije**

2. Ako vam na instrument ploči u vozilu svijetli i trepti svjetlo kao na slici, što to znači?



1. **Da je uključeno svjetlo za maglu**
2. **Uključeni su uključeni svi pokazivači smjera**
3. **Da žaruljica za tlak ulja u motoru signalizira kvar**

3. Kada vam se za vožnje na instrument ploči upali crvena kontrolna žaruljica, kao na slici, što ćete poduzeti?




1. zaustaviti vozilo
2. prekontrolisati ispravnost klinastog remena
3. prema potrebi zatražiti pomoć

4. Za vožnje na instrument ploči upali se crvenakontrolna žaruljica, kao na slici, što ćete poduzeti?



1. problemi sa hlađenjem motora
2. problemi sa podmazivanjem motora
3. razina ulja je ispod dopuštene

5. Za vožnje na instrument ploči upaljena je plava žaruljica kao na slici. Što to znači ?



1. da vozim sa dugim svjetlima
2. da vozim sa kratkim svjetlima


6. Kako ćete postupiti ako vam se za vrijeme vožnje motor pregrije?

?

1. odmah zaustaviti vozilo
2. odmah isključiti motor
3. ostaviti motor da kratko radi u neutralnom položaju mjenjača, a potom ga isključiti
4. pričekati da se motor ohladi i prekontrolirati razinu tekućine u sustavu za hlađenje

G

VOŽNJA U NASELJU



1. Koja je najveća dopuštena brzina kojom smijete voziti u naselju ako prometnim znakom nije drugačije određeno?

50 km/h

2. Na kojim mjestima ne smijete zaustavljati ni parkirati vozilo?

1. Na mjestima na kojim bi vozilo zaklanjalo prometni znak
2. Na sredini kolnika gdje su obilježena parkirna mjesta
3. Na udaljenosti manjoj od 5 metara od pješačkog prijelaza

3. Koliko mora biti najmanja širina slobodnog prolaza na djelu ceste od zaustavljenog ili parkiranog vozila i suprotnog ruba kolnika?

4 metra

?

Na kakvoj cesti

4. Koji najmanji razmak morate ostaviti od vozila do najbližeg ruba poprečnog kolnika na raskrižju ako ga želite parkirati?

5 metara

5. Koji najmanji razmak morate ostaviti od obilježenog pješačkog prijelaza ako želite parkirati vozilo?

5 Metara

6. Ako vozilom vučete drugo neispravno vozilo, kojom najvećom brzinom smijete voziti?

40 Km/h

7. Gdje je zabranjeno polukružno okretanje?

1. U tunelu
2. Na cesti s jednosmjernim prometom
3. Na cesti namjenjenoj isključivo za promet morornih vozila

8. Kako ćete postupiti prema putnicima koji izlazeći iz autobusa, moraju preći preko prometne trake kojom vozite?

1. Obvezno zaustaviti vozilo i propustiti putnike
2. Povećati brzinu i proći prije putnika

9. Skrećete u bočnu ulicu. Na kolniku ne postoji obilježeni pješački prelaz. Kako ćete postupiti?

1. propustiti pješake ako su već stupili na kolnik bočne ulice
2. skretanje obaviti smanjenom brzinom
3. skretanje obaviti povećanom brzinom

10. Na kojim mjestima ne smijete zaustaviti ili parkirati vozilo?

1. Na njestu na kojem bi vozilo zaklanjalo postavljene prometne znakove
2. na udaljenosti manjoj od 5 m od pješačkog prelaza
3. na sredini kolnika gdje su obilježena mjesta za parkiranje

11. Na koji je način ograničena brzina vožnje u ovom naselju?



1. Smanjiti brzinu vožnje na 40 km ako vozim prebrzo
2. Voziti brzinom od 40 km samo do prvog raskrižja
3. Voziti cijelim naseljem do izlaska brzinom do 40 km / h

12. Kako ćete voziti u situaciji kao na slici?



1. Voziti brzinom od 70 km/h do izlaska iz naselja
2. Voziti brzinom od 70 km/h do prvog raskrižja
3. Pogledati na brzinomjer

13. U ovoj situaciji prestrujili ste se za skretanje ulijevo. Kako ćete postupiti s obzirom na oznake na kolniku?



1. na prvom raskrižju vozim ravno
2. na prvom raskrižju skrenuti ulijevo
3. na drugom raskrižju skrenuti ulijevo

14. Namjeravate pretjecati vozilo ispred vas kao na slici . Kako éete postupiti?



1. oprezno obaviti pretjecanje brzinom do 40 km na sat
2. odustati od pretjecanja
3. vožnju nastaviti uz povećan oprez

15. Kako treba voziti u koloni?



1. održavati siguran razmak između vozila
2. izbjegavati nalijetanje na vozilo ispred
3. prilagoditi brzinu vožnje koloni
4. ne pretjecati i ne ubacivati se u kolonu

16. Smijete li u situaciji kao na slici zaustaviti vozilo uz desni rub kolnika ?



1. da
2. ne, jer nije dopušteno

17. Na koji je način ograničena brzina vožnje u ovom naselju?



1. prometnim pravilom
2. prometnim znakom

18. U situaciji na slici koja se vozila mogu polukružno okretati?



1. Sva vozila
2. Taxi vozila
3. Mopedi

19. Koji najmanji razmak morate ostaviti od obilježenog pješačkog prijelaza ako želite parkirati vozilo?

5 metara

20. Koja je najmanja dopuštena brzina vožnje u normalnim prometnim uvjetima?

40 km/h

21. Koliko mora biti najmanja širina slobodnog prolaza na djelu ceste od zaustavljenog ili parkiranog vozila do pune uzdužne crte na kolniku?

3 met.

22. Koliko mora biti najmanja širina slobodnog prolaza na djelu ceste od zaustavljenog ili parkiranog vozila do suprotnog ruba kolnika ?

4 met.

23. Ako vozilom vučete drugo neispravno vozilo,kojom najvećom brzinom smijete voziti?


40 km/h

24. Koja je najveća dopuštena brzina vožnje kojom smijete voziti u naselju ako prometnim znakom nije drugačije određeno?

50 km/h



**VOŽNJA IZVAN
NASELJA**



1. Kada je dopušteno započeti pretjecati drugo vozilo?

1. ako se pretjecanjem ne ugrožava vozila iz suprotnog smjera
2. ako vozilo iza njega nije započelo pretjecanje
3. uvijek ako je cesta pregledna bez obzira na oznake na kolniku

2. Vozite cestom namjenjenoj isključivo za promet motrnih vozilima. Što nesmiijete činiti vozilom?

1. Zaustavljati i parkirati
2. Voziti unatrag i parkirati
3. Pretjecati

3. Koja se vozila ne smiju uključiti u promet autocestom?

1. Koja ne mogu razviti brzinu veću od 60 km na sat
2. Koja se ne ubrajaju u motorna vozila
3. Motocikl s bočnom prikolicom

4. Kojom su se stranom obvezni kretati pješaci cestom izvan naselja?

1. uvijek zu desni rub kolnika u smjeru kretanja
2. bilo kojom stranom kolnika
3. uz lijevi rub kolnika u smjeru kretanja

5. Kojom najvećom brzinom smijete voziti cestom izvan naselja, koja nije autocesta ni cesta namjenjena isključivo za promet motornih vozila-brza cesta?

90 km/h

6. Kolika je najveća dopuštena brzina vožnje po cesti namjenjenoj isključivo za promet motornih vozila-brzo cesti?

110 Km/h

7. Koja je najveća dopuštena brzina vožnje na autocesti ?

130 km/h

8. Vašim vozilom vučete kamp-prikolicu.
Kojom brzinom smijete najviše voziti?

80 km/h

9. Koje radnje vozilom ne smijete izvoditi na autocesti?

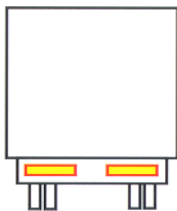
1. Vožnju unatrag
2. Prelazak vozilom iz desne u lijevu prometnu traku
3. Polukružno okretanje

10. Želite voziti u smjeru Zagreb zapad. Kako ćete postupiti?



1. isključiti se na kraju trake za isključivanje
2. na traci za isključivanje smanjiti brzinu
3. prestrojiti se u traku za isključivanje
4. voziti do kraja trake za zaustavljanje vozila u nuždi

11. Sustigli ste vozilo obilježeno kao na slici, s čime morate računati ?



1. ispred je skup vozila čija duljina može biti do 18,75 m
2. ili tegljač s poluprikolicom dužine do 16,5 m
3. ispred je vozilo koje prevozi opasne tvari
4. s većom duljinom puta pretjecanja

12. Sustigli ste vozilo obilježeno kao na slici, s čime morate računati ?



1. s većom duljinom puta pretjecanja
2. ispred je teretni automobil duljine do 12 m
3. ispred je vozilo koje prevozi opasne tvari

13. Kako ćete postupiti u ovoj situaciji ?



1. proći prije vozila iz suprotnog smjera
2. smanjit i brzinu iprema potrebi zaustaviti vozilo
3. propustiti vozilo iz suprotnog smjera
4. o propuštanju se međusobno dogovoriti

14. Vozite iza osobnog automobila kao na slici. Kako ćete postupiti s obzirom na oznake na kolniku?



1. započeti ću pretjecati odmah kada prođe teretni automobil
2. održavati potreban razmak iza osobnog vozila
3. ne smijem pretjecati jer je s moje lijeve strane puna crta

15. Na cesti kojom vozite izvode se radovi u situaciji kaona slici. Kako ćete postupiti ?



1. zaustaviti se uz desni rub kolnik
2. nastaviti vožnju prometnom trakom za vozila iz suprotnosmjera, jer je na semaforu upaljeno zeleno svjetlo

16. Koja se vozila nesmiju uključiti u promet na autocesti?

1. koja ne mogu razviti brzinu veću od 60 km na sat
2. motocikl s bočnom prikolicom
3. koja se ne ubrajaju u motorna vozila

17. Koje radnje nesmijete činiti na autocesti ?


1. pretjecanje
2. vožnju unatrag
3. polukružno okretati

18. Prema čemu ćete odrediti brzinu vožnje na cestama izvan naselja ?

1. Prema trenutnim uvjetima na cesti
2. Prema vrsti ceste kojom vozim
3. Prema vremenu putovanja za koje želim stići do odredišta

I

VOŽNJA U POSEBNIM UVJETIMA



1. Što ćete učiniti danju u vožnji ako iznenada nastupi magla?

1. prilagoditi brzinu vožnje
2. uključiti samo pozicijska svjetla
3. uključiti svjetla za maglu, ako postoje

2. Što se podrazumjeva pod zimskim uvjetima voznje na cesti ?

1. Ako je na kolniku poledica
2. Ako je kolnik pokriven snijegom
3. Samo ako ima više od 10 cm snjega na kolniku
4. Ako je temperatura ispod 0 stupnjeva

3. Kako ćete voziti u situaciji kao na slici?



1. pratiti stražnja svjetla na vozilu ispred sebe
2. povećati pozornost i ne pretjecati
3. održavati potreban razmak
4. pratiti oznake na kolniku

4. Kako ćete postupiti u situaciji kao na slici ?



1. naglo kočiti
2. prilagoditi brzinu vožnje
3. povećati oprez

5. Kako ćete postupiti u situaciji kao na slici?



1. smanjiti brzinu
2. lagano okretati upravljač
3. izbjegavati nagla kočenja
4. mekano mijenjati stupnjeve prijenosa
5. staviti lance za snijeg

6. Koje opasnosti prijete u ovoj situaciji?



Što ???

1. sklizak kolnik
2. skijanje na vodi
3. zanošenje vozila
4. vodena zavjesa od teretnog automobila

7. Što ćete učiniti danju u vožnji ako iznenada nastupi magla?

1. smanjiti brzinu vožnje
2. uključiti samo pozicijska svjetla
3. uključiti svjetla za maglu, ako postoje

8. Koje opasnosti mogu nastupiti kod vožnje po snijegu?

1. mogućnost zanošenja vozila
2. mogućnost sklizanja vozilom
3. otežano upravljanje
4. povećanje dužine zaustavnog puta

9. U kojim slučajevima bočni vjetar može biti jako opasan?


1. kod vožnje na prevojima
2. kod vožnje preko vijadukta i nadvožnjaka
3. kod vožnje preko mostova
4. kod vožnje u usjecima

10. Što se smatra zimskim uvjetima?

1. Snijeg debljine najmanje 15 cm
2. Poledica
3. Kolnik prekriven snjecom

J

POSTUPAK U SLUČAJU PROMETNE NESREĆE



1. Sudjelovali ste kao vozač u prometnoj nesreći. Što ni u kojem slučaju ne smijete činiti do obavljanja očevida?


1. uzimati alkoholna pića i lijekove
2. osigurati mjesto prometne nesreće

2. Naišli ste na prometnu nesreću. Koja je vaša obveza?

1. smanjiti brzinu i nastaviti vožnju
2. pružiti prvu pomoć osobama ozlijeđenim u prometnoj nesreći
3. prevesti svojim vozilom osobu ozlijeđenu u prometnoj nesreći do najbliže zdravstvene ustanove

K

NADZOR PROMETA I KAZNENA ODGOVORNOST



1. U kojim slučajevima će vozaču biti oduzeta vozačka dozvola?

1. ako pobjegne s mjesta prometne nezgode u kojoj je neko izgubio život
2. ako prekorači brzinu vožnje za više od 50 km na sat u naselju
3. ako vozi pod uticajem alkohola ili droga
4. ako u prometu na cesti koristi tehnički neispravno vozilo

2. Kada će policijska uprava pozvati vozača na predavanje o posljedicama prometnih nesreća?

1. Ako u roku 36 mjeseca zbog počinjenih prekršaja dobije 6 kaznenih bodova
2. Ako u roku 36 mjeseca zbog počinjenih prekršaja dobije 9 kaznenih bodova

3. U kojim slučajevima će vozaču biti oduzeta vozačka dozvola?

1. ako prekorači brzinu vožnje za više od 50 km na sat u naselju
2. ako u prometu na cesti koristi tehnički neispravno vozilo
3. ako vozi pod uticajem alkohola ili droga

4. Kada se vozaču može oduzeti vozačka dozvola 3-12 mjeseci?

1. ako vozi brzinom većom od 50 km na sat od dopuštene u naselju
2. ako vozi brzinom većom od 30 km na sat od dopuštene u naselju