


C

PRIRODNE ZAKONITOSTI I PROMETNA PRAVILA



1. Koja se svjetla u pravilu koriste za osvjetljavanje slobodne ceste noću?

1. Kratka svjetla
2. Duga svjetla

2. Koja se vozila ne smiju vući užetom?

1. vozila koja imaju neispravan uređaj za upravljanje
2. motorna vozila, osim vozila na dva kotača
3. vozila koja imaju neispravan uređaj za zaustavljanje
4. vozila na motorni pogon, osim vozila na dva kotača

3. Sustigli ste vozilo.
O čemu će ovisiti dužina puta pretjecanj ?

1. O brzini vozila koje namjeravam pretjecati
2. O brzini vozila koje vozi iza mene
3. O brzini kojom vozim

5. O čemu ovisi dužina zaustavnog puta?

1. stanju kolnika
2. brzini vožnje
3. gustoći prometa

6. Kako može djelovati i mala količina alkohola na vozača?

1. Može bitno povećati vozačeve sposobnosti
2. Može bitno povećati širinu vidnog polja
3. Prividno može povećati odvažnost u ponašanju

7. Čemu ste dužni prilagoditi brzinu vožnje?

1. osobinama i stanju ceste
2. vidljivosti i preglednosti
3. maksimalnoj od proizvođača propisanoj brzini moga vozila
4. gustoći prometa

8. S čime morate računati kada vozite pokraj djece?

1. Da će me djeca uočiti i pravilno reagirati
2. Da me djeca ne čuju
3. Da djeca ne obraćaju pozornost na vozila

9. Smijete li vući neispravno vozilo autocestom?

1. Da, ali samo krutom vezom
2. Da, ali samo do prvog izlaska s autoceste
3. Ne, ne smijem

10. Smijete li pretjecati kolonu sporih vozila?

1. Da, kada nema vozila iz suprotnog smjera
2. Ne, jer nije dopušteno

11. Koje radnje vozilom ne smijete činiti u ulici s jednosmjernim prometom?

1. voziti u suprotnom smjeru
2. voziti unazad
3. polukružno okretati vozilo

12. Na kojoj udaljenosti na cesti izvan naselja ste dužni postaviti sigurnosni trokut iza zaustavljenog vozila?

1. Na udaljenosti koja ne može biti manja od 100 metara
2. Na udaljenosti koja ne može biti manja od 50 metara

13. Kolika je prosječna dužina vremena reagiranja vozača u normalnim uvjetima vožnje?

1. Dvije sekunde
2. Jedna sekunda
3. Tri sekunde

14. O čemu ovisi duljina puta reagiranja?

1. O brzini vožnje
2. O stanju i vrsti kolnika

15. O čemu ovisi dužina puta reagiranja?

1. O stanju i vrsti kolnika
2. O brzini vožnje
3. O vremenu reagiranja vozača

16. Kako može djelovati i najmanja količina alkohola na vozača?

1. prividno može povećati odvažnost u ponašanju
2. može bitno povećati širinu vidnog polja
3. prividno stimulativno i razdražljivo

17. Što za vas znači zeleno treptavo svjetlo na semaforu?

1. Upozorenje na skori prestanak slobodnog prolaska i pojavu žutog, odnosno crvenog svjetla
2. upozorenje na skori prestanak zabrane prolaska i na istodobnu pojavu žutog i crvenog svjetla

18. Zbog čega je vožnja pod uticajem alkohola opasna?

1. Alkohol bitno skraćuje vrijeme reagiranja vozača
2. Alkohol produžuje vrijeme reagiranja vozača
3. Vozač pod uticajem alkohola teže procjenjuje udaljenost

19. Kada ste umjesto dugih svjetala za osvijetljenje ceste dužni upotrijebiti kratka svjetla?

1. Uvijek za vrijeme vožnje cestom izvan naselja
2. Za vrijeme vožnje iza drugog vozila
3. Pri mimoilaženju s drugim vozilom na potrebnoj udaljenosti

20. Sustigli ste vozilo. O čemu će ovisiti dužina puta pretjecanja?

1. o brzini vozila koji vozi iza mene
2. o brzini kojom vozite
3. o brzini vozila koje namjeravam preticati

21. Kada je dopušteno započeti pretjecati drugo vozilo?

1. ako se pretjecanjem ne ugrožava vozila iz suprotnog smjera
2. ako vozilo iza njega nije započelo pretjecanje
3. uvijek ako je cesta pregledna bez obzira na oznake na kolniku

22. Kada moramo koristiti kratka svjetla?

1. prilikom mimoilaženja s drugim vozilima
2. za vrijeme vožnje iza drugog vozila
3. u tunelu
4. za vrijeme vožnje pokraj vozila koje se kreće tračnicama

23. Gdje smijete zaustaviti vozilo?

1. na sredini kolnika gdje su obilježena mjesta za parkiranje vozila
2. na obilježenom pješačkom prelazu
3. tamo gdje je to prometnim znakom zabranjeno

24. Što ste dužni učiniti kada se približavate raskrižju?

1. na dovoljnoj udaljenosti pred raskrižjem zauzeti vozilom položaj u onoj prometnoj traci kojom namjeravam proći kroz raskrižje
2. voziti povećanom brzinom bez obzira na prometne uvjete na raskrižju
3. utvrditi način upravljanja prometom na raskrižju
4. voziti s povećanim oprezom koji odgovara prometnim uvjetima na raskrižju

25. Na kojim mjestima ne smijete zaustaviti ili parkirati vozilo?

1. na udaljenosti većoj od 5 m od raskrižja
2. na mjestu na kojem bi vozilo zaklanjalo postavljene prometne znakove
3. na udaljenosti manjoj od 5 m od pješačkog prelaza
4. na udaljenosti većoj od 15 m od prelaza ceste preko željezničke pruge

26. Na kojim mjestima zimi najčešće možete očekivati poledicu?

1. u usjecima i zasjecima
2. na sunčanom djelu ceste
3. na mostovima, nadvožnjacima i vijaduktima
4. na zasjenjenim djelovima ceste

27. Koje radnje vozilom ne smijete činiti u ulici s jednosmjernim prometom?

1. voziti u suprotnom smjeru
2. voziti unazad
3. pretjecati
4. polukružno okretati vozilo

28. Sustigli ste vozilo. O čemu će ovisiti dužina puta pretjecanja?

1. o brzini vozila koje namjeravam pretjecati
2. o brzini kojom vozite
3. o dužini vozila
4. o opterećenju vašeg vozila

29. Da li gume na vozilu utječu na potrošnju goriva?

1. Ne
2. Da

30. Da li ćemo brzinu vozila prilagoditi teretu koji vozimo?

1. Da
2. Ne

31. Što je zabranjeno na autocesti?

1. Polukružno okretanje
2. Vožnja unazad
3. Vuča vozila, do prvog izlaza s autoceste ako je kvar nastao na autocesti

32. Ako je vozač pod uticajem alkohola, koje su posljedice?

1. Skraćivanje vremena reagiranja
2. Proširuju se zjenice oka
3. Produžuje vrijeme reagiranja

33. Kolika je duljina svjetlosnog snopa dugih svjetala vozila?

?



1. Ne kraće od 80 m
2. Ne kraćem od 200 m
3. Ne kraće od 100 m

34. Kako može djelovati i mala količina alkohola na vozača?

1. Može bitno povećati vozačeve sposobnosti
2. Može bitno povećati širinu vidnog polja
3. Prividno može povećati odvažnost u ponašanju

35. Kako može djelovati i najmanja količina alkohola na vozača?

1. prividno može povećati odvažnost u ponašanju
2. prividno stimulatивно i razdražljivo
3. može bitno povećati vozačeve sposobnosti

36. Zbog čega morate smanjiti brzinu kada pada kiša?

1. zbog smanjene vidljivosti iz vozila
2. zbog skraćenog puta kočenja
3. zbog mogućeg nastanka vodenog klina

37. Čemu ste dužni prilagoditi brzinu vožnje?

1. osobinama i stanju ceste
2. vidljivosti i preglednosti
3. maksimalnoj od proizvođača propisanoj brzini moga vozila
4. gustoći prometa

38. Kada ste umjesto dugih svjetala za osvjetljavanje ceste dužni upotrijebiti kratka svjetla?

1. u tunelu
2. uvijek za vrijeme vožnje cestom izvan naselja
3. prilikom mimoilaženja s drugim vozilom
4. za vrijeme vožnje iza drugog vozila

39. Od čega se sastoji zaustavni put vozila?

1. Od puta reagiranja
2. Od puta kočenja

40. Što utječe na produljen put kočenja?

1. mokar i blatnjav kolnik
2. suh kolnik
3. opterećenje vozila

41. O čemu ovisi dužina zaustavnog puta?

1. stanju kolnika
2. gustoći prometa
3. brzini vožnje
4. stanju i vrsti kočnica

42. Od čega se sastoji zaustavni put ?

1. Od puta usporavanja i puta kočenja
2. Od puta reagiranja i puta kočenja

43. O čemu ovisi dužina zaustavnog puta?

1. O brzini vožnje
2. O dužini vremena reagiranja vozača
3. O stanju i vrsti kolnika

44. O čemu ovisi dužina zaustavnog puta?


1. O brzini vožnje
2. O vremenu reagiranja vozača

45. O čemu ovisi razmak između vozila koja se kreću jedno za drugim?

1. O vremenu reagiranja vozača
2. O širini prometne trake
3. O brzini vožnje

D

ZNAKOVI U PROMETU



1. Kako ćete postupiti nakon ovog prometnog znaka?



I-34

1. Da smijem vozilo parkirati na bankini
2. Da je uz rub kolnika neutvrđena bankina
3. Na opasnost koja se odnosi samo na osobna vozila

2. Na što ukazuje ovaj prometni znak s dopunskom pločom?



?
DALI NA
PKAZIVAČ
PRAVCA
ODG. 3.

1. Ako skrećem ulijevo slijedim cestu s prednošću prolaska
2. Obvezno moram skrenuti ulijevo
3. Ako skrećem ulijevo moram uključiti lijevi pokazivač smjera

3. Šta morate izbjegavati kod ovog prometnog znaka?



Znak 124

1. Nagla kočenja
2. Brze i nagle pokrete upravljačem
3. Sporu vožnju

4. Na što morate paziti kod ovog prometnog znaka?



Znak 106a

1. Približavam se zavoju ulijevo
2. Moram prilagoditi brzinu vožnje
3. Na suženje ceste s lijeve strane

5. Što morate učiniti kod ovog prometnog znaka?



II-2

1. obvezno zaustaviti vozilo
2. propustiti vozila ako nailaze glavnom cestom
3. obvezno se zaustaviti samo ako nailaze vozila glavnom cestom

6. Na što ukazuje ovaj prometni znak?



1. Na početak ceste namijenjen isključivo za promet motorna vozila
2. Da je uz rub kolnika neutvrđena bankina
3. Na opasnost koja se odnosi samo na osobna vozila

8. Na što ukazuje ovaj prometni znak ?



Znak 314a

1. Na zonu u kojoj vozila moraju voziti brzinom najviše do 30 km na sat
2. Na zonu u kojoj vozila moraju voziti brzinom većom od 30 km na

9. Na što ukazuje prometni znak s dopunskom pločom?



1. Na raskrižje s cestom s prednošću prolaska na udaljenosti od 50 m
2. Na obvezno zaustavljanje na udaljenosti od 50 m

10. Šta najavljuje ovaj prometni znak s dopunskom pločom?



1. Obvezno zaustavljanje nakon 100 m
2. Da nakon 100 m moram propustiti vozila ako nailaze po c.
3. Da nakon 100 m imam prednost prolaska

11. Koja vozila na motorni pogon smijete pretjecati nakon ovog prometnog znaka?



1. Sva motorna vozila osim motocikla bez prikolice I mopede
2. Motocikle bez prikolice
3. Mopede

12. Koja vozila smiju koristiti cestu obilježenu ovim prometnim znakom?



1. Osobni automobili
2. motocikli
3. traktori

13. Koji prometni znak daje prednost prolaska vozilima iz suprotnog smjera?



1



2



3

2

14. Na što ukazuje ovaj prometni znak ?



Znak 314a

1. Na zonu u kojoj je ograničena brzina najmanje do 30 km
2. Na zonu u kojoj vozila moraju voziti brzinom većom od 30 km
3. Na zonu u kojoj je ograničena brzina najviše do 30 km/h

15. Na što ukazuje ovaj prometni znak?



1. Da ulazim u ulicu s dvosmjernim prometom
2. Da ulazim u jednosmjernu ulicu
3. Da završava jednosmjerna ulica

16. Na koja vozila se odnosi ovaj prometni znak?



II-5

1. Na mopede
2. Na osobne automobile
3. Na traktore

17. Na što ukazuje ovaj prometni znak?



1. Povećanom brzinom obići pješake
2. Smanjiti brzinu i prema potrebi se zaustaviti

18. Kako ćete postupiti nakon ovog prometnog znaka ako pješaci namjeravaju stupiti na kolnik?



I-14

1. Pripremiti se za obilaženje pješaka
2. Povećati oprez
3. Pripremiti se za kočenje i zaustavljanje

19. Na što ukazuje ovaj prometni znak?



1. na cestu s jednosmjernim prometom
2. na obvezan smjer vožnje
3. da ne bi trebalo biti prometa iz suprotnog smjera

20. Na koja vozila se odnosi ovaj prometni znak?



2-II

1. motocikle bez bočne prikolice
2. osobne automobile
3. na teretne automobile i traktore
4. mopede

21. Kako ćete postupiti nakon ovog prometnog znaka?



1. smanjiti brzinu prije zavoja
2. izbjegavati nagla kočenja
3. ne smije voziti uljevo

22. Koji prometni znak znači obvezno obilaženje?



1



2



3

3

22. Kako ćete postupiti nakon ovog prometnog znaka?



1. nakon 2 km smanjiti brzinu
2. postupno smanjiti brzinu
3. čvršće držati upravljač na udaljenosti 2 km
4. voziti s povećanom brzinom da što prije prođem ovu dionicu

23. Kako ćete postupiti nakon ovog prometnog znaka?



1. smanjiti brzinu i paziti na vozilo ispred
2. povećati brzinu i što prije proći tu dionicu
3. naglo kočiti kako bih izbjegao opasnost
4. obratiti pozornost na kamenje koje može ležati na cesti

24. Koji prometni znak označuje mjesto na kojem cesta prelazi preko ž. pruge bez branika ili polubranika?



1



2



3

3

25. Kako ćete postupiti nakon ovog prometnog znaka?



1. povećati pozornost i pogledom tražiti mjesto prelaska bicikliste
2. povećati brzinu i što prije proći pored bicikliste
3. smanjiti brzinu vožnje i voziti dalje od desnog ruba kolnika

26. Kako ćete postupiti nakon ovog prometnog znaka?



1. voziti brže od 50 km na sat
2. provjeriti ću na brzinomjeru kojom brzinom vozim
3. smanjit ću brzinu ako vozim preko i voziti do 50 km na sat

27. Što morate učiniti kod ovog prometnog znaka?



II-2

1. obvezno zaustaviti
2. propustiti vozila
3. samo ako ima vozila na glavnoj cesti zaustaviti se

28. Koja vozila smiju koristiti cestu obilježenu ovim prometnim znakom?



1. motorna vozila (osim onih koji se ne mogu kretati minimalno 60 km/h)
2. zaprežna vozila
3. osobni automobili, teretni automobili i autobusi

29. Koji prometni znak daje prednost prolaska vozilima iz suprotnog smjera?



1

2

3

2

30. Kako ćete postupiti nakon ovog prometnog znaka?



1. smanjiti brzinu vožnje
2. povećati pozornost zbog mogućek nailaska djece
3. biti pripravan za kočenje i zaustavljanje
4. zvučnim znakom najaviti svoj nailazak

31. Na što ukazuje ovaj prometni znak?



1. potrebu smanjenja brzine i većeg opreza
2. na zabranu pretjecanja na pješačkom prelazu
3. na mjesto gdje se nalazi obilježeni pješački prelaz
4. na potrebu povećanja brzine i prelaska prije pješaka

32. Kako ćete postupiti kod ovog prometnog znaka?



1. obvezno moram voziti udesno
2. provjeriti imam li uključen desni pokazivač smjera
3. ne smijem voziti udesno
4. ne moram uključiti desni pokazivač smjera

33. Koji prometni znak zabranjuje promet motociklima?



1



2



3

1

34. Kako ćete postupiti nakon ovog prometnog znaka?



I-12

1. smanjiti brzinu vožnje i ne kočiti
2. držati siguran razmak od vozila ispred
3. ubrzati i što prije proći ovu dionice

35. Što treba izbjegavati nailaskom na ovaj prometni znak?



I-11

1. sporu vožnju
2. prebrzu vožnju
3. naglo kočenje i nagle pokrete upravljačem

36. Kako ćete postupiti nakon ovog prometnog znaka?



1. staviti lance za snijeg
2. izbjegavati nagla kočenja i nagle pokrete upravljačem
3. povećati pozornost i smanjiti brzinu
4. nastaviti voziti istom brzinom da bih što prije prošao mjesto opasnosti

37. Kako ćete se ponašati u vožnji kada na cesti opazite ovaj prometni znak?



I-26

1. smanjiti brzinu i povećati oprez
2. poštovati prednost prolaska koja dolazi s desne strane
3. voziti nesmanjenom brzinom jer imam prednost prolaska
4. usmjeriti pogled na nailazak vozila s bočnih strana

38. Koje opasnosti mogu nastupiti zbog nepoštivanja ovog prometnog znaka?



1. produljen zaustavni put vozila
2. mogućnost zanošenja zbog sitnog kamenja na kolniku
3. produljeno vrijeme reagiranja vozača
4. smanjeno prijanjanje guma zbog leda na kolniku

39. Na što ukazuje ovaj prometni znak s dopunskom pločom?



1. na zabranu zaustavljanja u vremenu od 8 do 16 sati
2. na zabranu parkiranja u vremenu od 8 do 16 sati
3. na mjesto gdje je dopušteno zaustavljanje i parkiranje u vremenu od 8 -16

40. Približavate se ovom prometnom znaku s dop. pločom. Namjeravate voziti ravno. Kako ćete postupiti?



1. nastaviti vožnju jer imam prednost prolaska
2. propustiti vozila na glavnoj cesti ako nailaze
3. uključiti lijevi pokazivač smjera

41. Koji prometni znak zabranjuje promet svim motornim vozilima?



1



2



3

2

42. Kako ćete postupiti nailaskom na ovaj prometni znak?



1. smanjiti brzinu do brzine čovječijeg hoda
2. biti pripravan na nepredviđene postupke djece ako se igraju na kolniku
3. voziti brzinom do 50 km na sat

43. Kako ćete postupiti nailaskom na ovaj prometni znak?



?

1. voziti ću oprezno kroz zavoj i očekivati vozilo iz suprotnog smjera
2. smanjiti brzinu jer nailazim na oštar zavoj ulijevo
3. voziti ću što bliže desnom rubu kolnika i neću sjeći zavoj
4. smanjiti brzinu jer nailazim na oštar zavoj udesno

44. Što označava ovaj prometni znak s dopunskom pločom ?



1. opasnu uzbrdicu nakon 500 m
2. opasnu nizbrdicu u duljini 500 m
3. opasnu uzbrdicu u duljini 500 m

45. Na što upućuje ovaj znak?



?

- 1. na naziv naseljenog mjesta
- 2. na najveću dopuštenu brzinu od 50 km na sat
- 3. završetak naseljenog mjesta

46. Koji od prometnih znakova stoji točno na mjestu od kuda počinje opasnost ili neposredno ispred mjesta opasnosti?



1 2 3 4 5

- A - 1, 2 i 4
- B - 2, 3 i 4
- C - 3, 4 i 5

B (2, 3, 4)

47. Koji prometni znak označava brzinu koja se preporučuje?



1



2



3

2

48. Koji prometni znak označuje obvezni smjer vožnje u desno?



1



2



3

3

49. Na šta ukazuje ovaj prometni znak?



- 1. da mogu nastaviti vožnju ravno
- 2. na zabranu prometa u jednom smjeru
- 3. da se promet odvija iz suprotnog smjera

50. Na šta upozorava ovaj prometni znak?



I-35


- 1. teren uređen za kampiranje
- 2. da ne bacam opuške i druge zapaljive stvari iz auta
- 3. na opasnost od požara

51. Na šta ukazuje ovaj prometni znak?



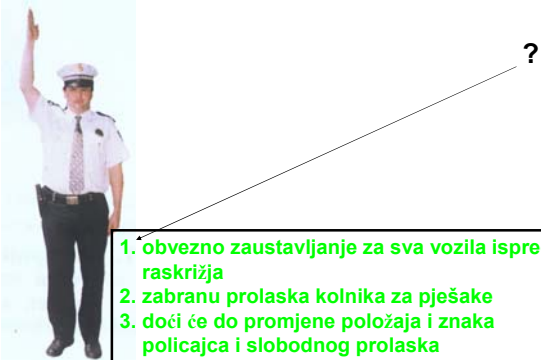
1. vozila iz suprotnog smjera imaju prednost
2. vozila iz suprotnog smjera moraju pričekati
3. imam prednost prolaska pred vozilima iz suprotnog smjera

52. Što vam određuju ovi prometni znakovi?



1. obvezne smjerove
2. jednosmjernu cestu
3. dopuštene smjerove

53. Što znači znak policajca u raskrižju?



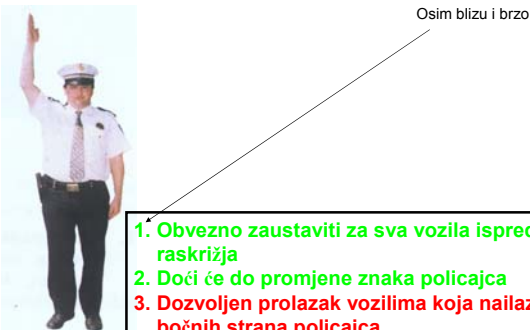
1. obvezno zaustavljanje za sva vozila ispred raskrižja
2. zabranu prolaska kolnika za pješake
3. doći će do promjene položaja i znaka policajca i slobodnog prolaska
4. da vozila iz bočnih smjerova mogu proći

54. Vozite automobil. Kako ćete postupiti u ovoj situaciji?



1. obvezno se zaustaviti
2. smanjiti brzinu
3. povećati oprez
4. nastaviti vožnju jer imate slobodan prolaz

55. Što znači znak policajca u raskrižju?



Osim blizu i brzo

1. Obvezno zaustaviti za sva vozila ispred raskrižja
2. Doći će do promjene znaka policajca
3. Dozvoljen prolazak vozilima koja nailaze s bočnih strana policajca

56. Vozite teretno vozilo iza bijelog vozila u situaciji kao na slici. Kako ćete postupiti?



1. Povećati pozornost
2. Zaustaviti vozilo
3. Nastaviti vožnju

57. Prometom na raskrižju upravlja policajac. Kako možete postupiti s obzirom na znak koji daje?



1. mogu skrenuti ulijevo
2. mogu nastaviti vožnju ravno
3. mogu skrenuti u desno
4. zabranu prolaska vozilima koja voze ravno ili desno

58. Što za vas znači upaljeno žuti i crveno svjetlo istodobno na semaforu?

1. dopušten prolazak kroz raskrižje
2. skorbu pojavu zelenog svjetla i pripravu za prolazak kroz raskrižje
3. zabranu prolaska

59. Neposredno ste ispred semafora. Zeleno svjetlo počelo je treptati. Što za vas to znači?

1. da uskoro dolazi do prestanka zelenog svjetla i pojave žutog svjetla
2. da moram naglo kočiti i zaustaviti vozilo
3. da treba ubrzati vozilo i proći raskrižjem za trajanja zelenog treptavog svjetla